

Ulf Eskilsson

ماتہ ماتیکی ده مه تری

The image shows five equations arranged vertically on a light blue background. Each equation uses different shapes to represent numbers:

- Equation 1: Two orange squares are added together to equal 6. $\square + \square = 6$
- Equation 2: Three purple circles are added together to equal 6. $\circ + \circ + \circ = 6$
- Equation 3: One green triangle, one purple circle, and one orange square are added together to equal 10. $\triangle + \circ + \square = 10$
- Equation 4: One purple circle, one pink star, and one green triangle are added together to equal 11. $\circ + \star + \triangle = 11$
- Equation 5: One red heart and one pink star are added together to equal 14. $\heartsuit + \star = 14$

Sica

Matte att räkna med – utmaningar för hela klassen!

Ulf Eskilsson

Sica - www.sica.se

Översättning till kurdiska: Asos Shafeek, Stockholm 2017

ماتەماتیکێ دە مەتری.

دەفتەرچە یە بۆ پۆله کانی ئاستی بەرای.

نووسەر : Ulf Eskilsson

وێشانخانە : Sica

تەرجەمە ی لە سویدیەو: ئاسۆس شەفیک، ستۆکھۆلم 2017

ئەم تەرجەمە کوردییە پێشکەشە بە فێرخواز و مامۆستای کوردستان، بۆ بازار و فرۆشتن نییە.

| | | | |
|----|---------------------------|----|------------------------------|
| 26 | شه ترهنج | 5 | له «سه رشار» هوه |
| 27 | کې بوو براوهی بادمینتوون؟ | 6 | دابه شکردنی یه کسان |
| 28 | خشته ی پؤل | 7 | کې کینیه؟ |
| 29 | نه خشی ژماره | 8 | نیگاری رهنگاله |
| 30 | پسووله یه کی په نهان | 9 | دیدار ته ک ژمیرک |
| 31 | گه نجی شاراهه | 10 | پوشاکي رهنگاله |
| 32 | په یجووری | 11 | تهونی سده کی |
| 33 | میوه بو پؤل بکره | 12 | گه وره کردن |
| 34 | تهونیکي دیکه ی سده کی | 13 | ژماردن به نیگار |
| 35 | چی ده بینیت؟ | 14 | مالی هه فالان |
| 36 | په یژه ی ته لوه ند | 15 | کاتژمیر |
| 37 | مه له وانگه | 16 | نیگار کیشی |
| 38 | لیستوک بو پوله که ت | 17 | وشه ی نهینیی ماته ماتیک |
| 39 | چوون ده که ی ت؟ | 18 | مالی هه فاله که ت له کوئییه؟ |
| 40 | سوودوکوو به چوار ژماره | 19 | پرسیاری سی بژاره ده رباره ی |
| 41 | زانرؤزی له کام مانگدایه؟ | | یه که ی پیواندن |
| 42 | چوارگوشه ی لی ساز بکه | 20 | خشته |
| 43 | نیگار دؤزی | 21 | نه خشه |
| 44 | سه نگی ته م باره چه نده؟ | 22 | مه ته ل |
| 45 | گه یشتینه ئامانج | 23 | کینله ریی ده ستردی خوت |
| 46 | به رؤکگیری دیکه | 24 | پولینی ته لفوبی |
| 47 | هه لسه نگاندن | 25 | تهونی هه زاره کی به ده یان |

ناو: -----

بەروار: -----


پۆل: -----

- ❖ ئەم كىتپە چەند لاپەرەيە؟
- ❖ لاپەرە كانى نىۋەندى ئەم كىتپە ژمارەى چەندىان لەسەرە؟
- ❖ كاتىك دەگەيتە لاپەرە بىست، چەند لاپەرە دەمىنپت ھەتا كۆتاي كىتپە كە؟
- ❖ لە كام لاپەرەدا «بەرۆكگىرىى دىكە» ھەيە؟
- ❖ «ھەلسەنگاندن» دە كەويتە كام لاپەرەيەوہ؟
- ❖ كام لاپەرە لە ھەموان خۆشترە كارى لەسەر بكەيت؟

بۇ مامۇستا

«ماتەماتىكى دە مەترى» دەفتەرچەيە كى راھىنانه بۇ پۇلە كانى ئاستى بەرايى، بەرۆكى بىر كرنەوہى فېرخواز دەگرپت. فېرخواز تىيدا بەر كەوتى دەبپت تەك پرسىارى گونجاو بۇ تەمەنى خۆى و ھەرۋەھا نىزىك لە گوزەرانى رۆزانەى خۆى. ھەر وانەيەك دەربارەى بابەتپكى ديارىكراوہ و داواى وريايى و كونچكان دەكات. جار ھەيە فېرخواز پىويستى بە ژمىرك دەبپت بۇ ئەنجامدۆزىى پرسىارە كانى ئەم كىتپە. مەبەست لە پرسىارە كان ھاندانى گفٹۆگۆى ماتەماتىكانەيە. ماتەماتىك شادىھىنە!



ئايا فېرخوازەكانت دەروہستى دە مەتر ماتەماتىك دپن؟ پرسىارىكى دوورودرىژى كۆكارى و كەمكارى لە دامىنى ھەموو لاپەرە كاندا خۆى مەلاس داوہ. فېرخواز لە كۆتاي ئەم پرسىارەدا پتر لە دە مەتر ماتەماتىك دەژمىرپت.







له سه رشاره وه



وه ره خه ريكی پيواندن ده بين. ئەم رپر هوه بگره بهر. به رسفی هه ر پرسيارنك ده بيته سه ر ه تا بو بهر و كگيريه كي نوئ. كاتنك ده گه يته كو تاي ئەم كتیبه پتر له ده مه تر ماته ماتنكت پيواوه.



Serşar!



$1+2+3+4=$  $6=$  $+ 10 =$



$6=$  $+ 10 =$  $- 7 =$

$- 3 =$  $- 10 =$  $+ 7 =$

$- 7 =$  $+ 10 =$  $- 7 =$




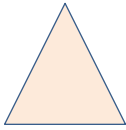
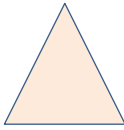
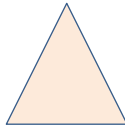
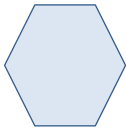
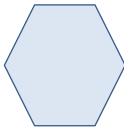
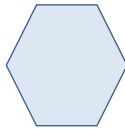
$+ 6 =$  $+ 10 =$  $- 7 =$




$+ 6 =$  $- 10 =$  $- 7 =$

$+ 9 =$  $- 10 =$  $+ 5 =$

وه لامه كه ت بگويزه وه بو لاپه ره ی داها تووا!

دابه شکردنی یه کسان




| | | |
|---|---|---|
| ئەم چوارگۆشانه، هەریه که یان به جۆرێک، بکه به دوو به شی یه کسان. | | |
|  |  |  |
| ئەم سیگۆشانه، هەریه که یان به جۆرێک، بکه به دوو به شی یه کسان. | | |
|  |  |  |
| ئەم شەشگۆشانه، هەریه که یان به جۆرێک، بکه به دوو به شی یه کسان. | | |
|  |  |  |

| | | |
|---|---|---|
| | | |
|  |  |  |
| $__ - 6 = __$ | $__ + 10 = __$ | $__ - 7 = __$ |

کټ کټه؟


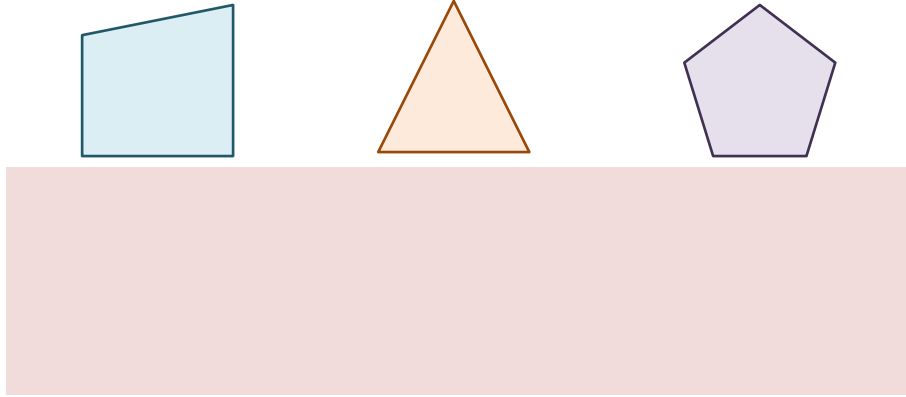
ناوی دروست له ژیر هر وینه کدا بنووسه.

| | | | |
|---|---|--|---|
|  |  |  | <p>ماردین به تهمه ن گه وره ترینه. نه وزاد به تهمه ن بچوو کترینه. سه یوان مندالتره له ماردین.</p> |
|  |  |  | <p>سو ما بالای کورترینه. مه ریه م بالای به رزترینه. ره وشه ن بالای له سو ما به رزتره.</p> |
|  |  |  | <p>خه پؤل له هه موان سه نگی نتره. سه نگی په ری له هه موان که متره. سه نگی شیرو له سه نگی په ری زیادتره.</p> |

| | | | |
|---|---|--|--|
|  |  |  | |
| ___ + 5 = ___ | ___ + 5 = ___ | ___ - 10 = ___ | |

نیگاری پهنگاله

ویتهی ههر یه ک له م نیگارانه به راسته له ژیر خویدا بکیشه وه.



کام نیگار زۆرتین گوشه ی هه یه؟

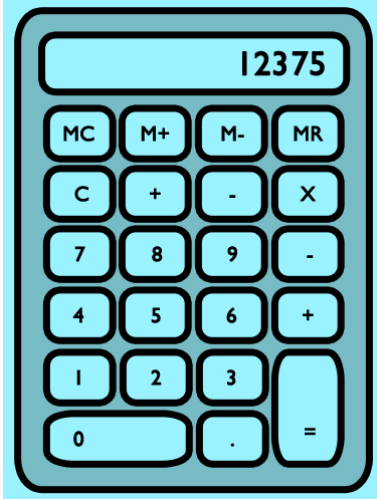
کام نیگار که مترین گوشه ی هه یه؟

| | | |
|-------------------|--------------------|-------------------|
| | | |
| $__ + 6 = __$ | $__ - 10 = __$ | $__ - 3 = __$ |

دیدار تهک ژمیرک

تۆ پرسیار له کهسیک ده کهیت و ئەو بۆی نییه قسه بکات. ئەو کهسه بۆی ههیه وهلامه کانی خۆی به ژمیرک پیشانی تۆ بدات.

ناوی ئەو کهسهی تۆ پرسیاری ئاراسته ده کهیت: - - - - -




دیدار

- ❖ ته مەنت چەندە؟
- ❖ پۆلی چەندیت؟
- ❖ چەند فیڕخوازی له پۆله که تدا ههیه؟
- ❖ چەند فیڕخوازی کچ له پۆله که تدا ههیه؟
- ❖ چەند فیڕخوازی کور له پۆله که تدا ههیه؟
- ❖ چەند خانوو له گه ره که که تان ههیه؟
- ❖ ژماره ی ته له فۆنه کهت چەندە؟
- ❖ ئەمه چ مانگیکه - به ژماره؟
- ❖ ئەمرۆ چەندی مانگه؟
- ❖ چەند خوشکوبرات ههیه؟
- ❖ چەند هاوڕیت ههیه؟
- ❖ له پهنجهره ی ژمیرکه که تدا جیی چەند ره نووس ده بیته وه؟
- ❖ بهرزترین ژماره بهو ژمیرکه ی تۆ بنووسریت، چەندە؟

| | | |
|-------------------|-------------------|--------------------|
| | | |
| _____ + 9 = _____ | _____ + 7 = _____ | _____ - 10 = _____ |

پوشاکی رهنگاله

ٲهم ٲيشيرٲانه رهنگريرٲ بکه، هر يه ک به رهنگيرک.



بؤچي که دوو ٲيپ به رانه ر يه ک ياري ده کهن ده ٲيٲ رهنگي بؤشاکيان جياواز ٲيٲ؟

ژميرک به کار بهينه!

| | | |
|------------------------|-------------------------|-------------------------|
| | | |
| $___ + 99 = ___$ | $___ + 290 = ___$ | $___ - 396 = ___$ |

تہونی سہدہ کی

ژمارہ گلاوہ کان پر بکہوہ.

| | | | | | | | | | |
|----|----|----|----|----|----|----|----|----|----|
| 0 | 1 | 2 | 3 | | | 6 | 7 | 8 | 9 |
| 10 | 11 | 12 | | 14 | 15 | | 17 | 18 | 19 |
| 20 | 21 | | 23 | 24 | 25 | 26 | | 28 | 29 |
| 30 | | 32 | 33 | 34 | 35 | 36 | 37 | | 39 |
| | 41 | 42 | 43 | 44 | 45 | 46 | 47 | 48 | |
| | 51 | 52 | 53 | 54 | 55 | 56 | 57 | 58 | |
| 60 | | 62 | 63 | 64 | 65 | 66 | 67 | | 69 |
| 70 | 71 | | 73 | 74 | 75 | 76 | | 78 | 79 |
| 80 | 81 | 82 | | 84 | 85 | | 87 | 88 | 89 |
| 90 | 91 | 92 | 93 | | | 96 | 97 | 98 | 99 |

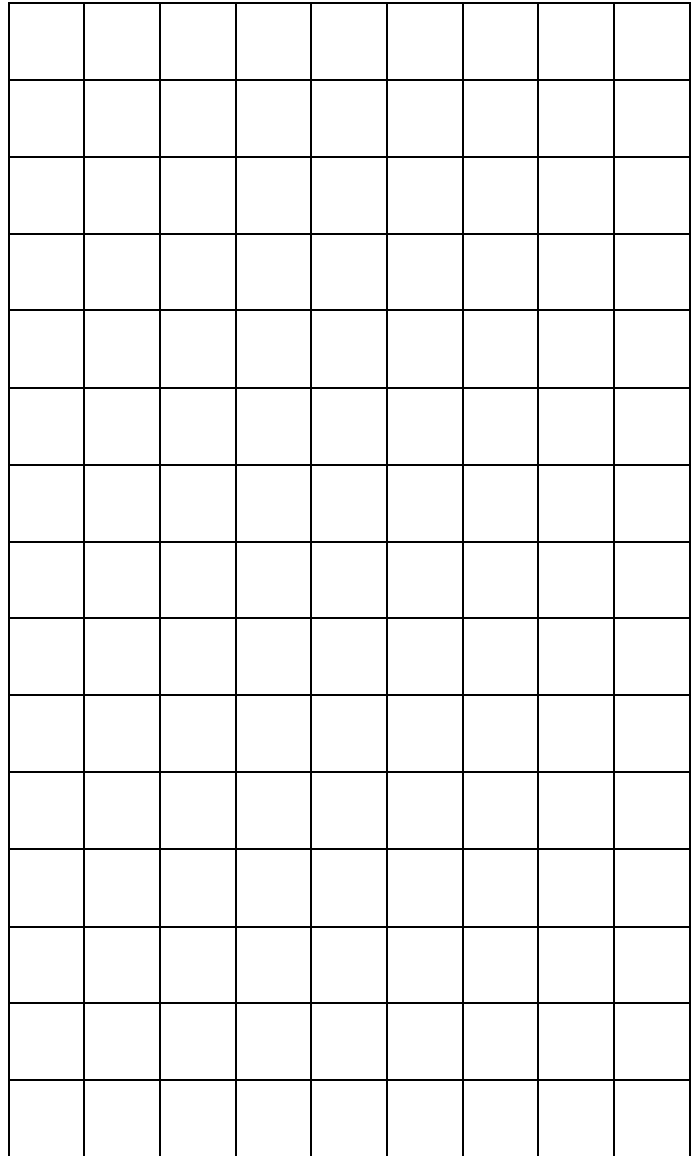



تہو خانہیہی تو پری دہ کہیتہوہ، رہنگریژ بکہ. نیگارنک خویا دہ بیٹ. دہ توانیت ویتہی بکیشیت؟

کام رہنووس کہ مترین جار لہو تہونہدا بوونی ہہیہ؟

| | | |
|-----------------------|------------------------|-----------------------|
| | | |
| $___ + 6 = ___$ | $___ + 10 = ___$ | $___ - 7 = ___$ |

گهوره كردن














ويته كانى دهسته چهپ له تووري دهسته راستدا گهوره بکه.



| | | | |
|---------------|----------------|---------------|--|
| | | | |
| $_ + 7 = _$ | $_ + 10 = _$ | $_ - 9 = _$ | |

ژماردن به نیگار

ژماره‌ی ئەم نیگارانه بدۆزوه و پاشان له خشته‌که‌ی دامیندا ژماره‌کان بنووسه‌وه.

| | | | | | |
|---|---|---|---|---|------|
|  | + |  | = | 6 | |
|  | + |  | + |  | = 6 |
|  | + |  | + |  | = 10 |
|  | + |  | + |  | = 11 |
|  | + |  | = | 14 | |






| | | |
|---------------|----------------|---------------|
| | | |
| ___ + 6 = ___ | ___ - 10 = ___ | ___ - 7 = ___ |

مالی هه‌قاله کانت

ئەم گەرە که هه‌شت خانووی تێدایه و هه‌ر یه‌که‌یان مالی یه‌ک له هه‌قاله‌کانی تۆیه. ژماره‌ بده له خانووه‌کان. تاکژمار بۆ لای راست و جووتژمار بۆ لای چه‌پ. ناویشانی هه‌قاله‌کانت بخوێته‌وه و ئه‌وجا ناویان له ئاست ماله‌کانی خوێاندان بنووسه‌وه.

| | | | |
|---|---------------------------|--------------------------------------|---|
|  | ژماره..... خانووی..... | ژماره.....1.... خانووی..بوکان.... |  |
|  | ژماره..... خانووی..... | ژماره..... خانووی..... |  |
|  | ژماره..... خانووی..... | ژماره..... خانووی..... |  |
|  | ژماره..... خانووی..... | ژماره..... خانووی..... |  |

خانووی ژماره یه‌ک مالی بوکانه. مالی ئومید به‌رانبه‌ر شانازه. مالی شاناز ته‌نیشته‌سه‌یوانه. خانووی په‌ری جووتژماره. مالی کو‌سار به‌رانبه‌ر په‌رییه. مالی یاران له نیوان مالی دوو کو‌ردایه.

| | | |
|---|--|---|
|  |  |  |
| $__ + 9 = __$ | $__ + 10 = __$ | $__ - 9 = __$ |

کاتزمیر

میلی کاتزمیره کان بکیشه و کاته کانی سۆسه ن پیشان بده. پاشان ستوونی کاته کانی خویشت پر بکه وه.

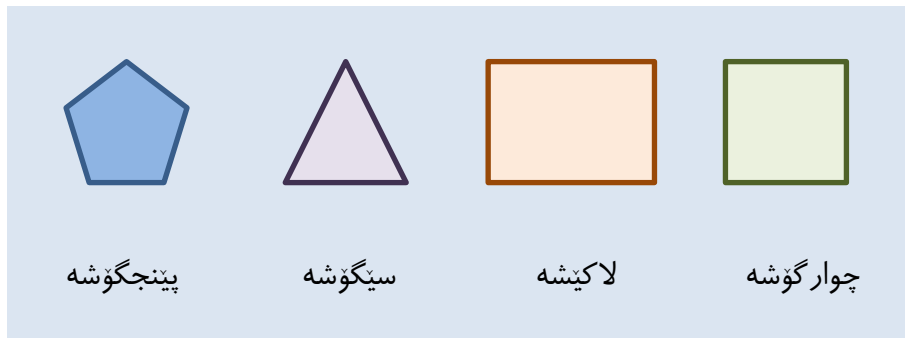
| خۆم | سۆسه ن | کات |
|-----|--------|-------------------------------------|
| | | کاژیر ههفتی به یانی هۆشیار ده بیته. |
| | | کاژیر ههفت و نیو بهرچایی ده خوات. |
| | | کاژیر ههشت ده ستپینکی فیڕ گه یه. |
| | | کاژیر یازده فراقینه (ژهمی نیوه رۆ). |
| | | کاژیر دوو کۆتای فیڕ گه یه. |
| | | کاژیر سی ده گاته وه مال. |
| | | کاژیر ههشت کاتی خه وه. |

کاتزمیر و کاتی بریارده (بریار دراو) بۆچی باشن؟ -----

| | | |
|-------------------|--------------------|--------------------|
| | | |
| $__ + 5 = __$ | $__ - 10 = __$ | $__ - 10 = __$ |

نیگار کیشی

راسته به کار بهینه بو کیشانی ئەم نیگارانه.



| | |
|--|---|
| پینجگۆشه یه ک له نیوان دوو سینگۆشه دا بکیشه | چوارگۆشه یه ک له بان سینگۆشه یه ک بکیشه |
| چوارگۆشه یه ک له نیو سینگۆشه یه ک دا بکیشه | سینگۆشه یه ک له نیو لاکیشه یه ک دا بکیشه |
| له دامینی لاکیشه یه ک دا بازنه یه ک و سینگۆشه یه ک نیگار کیش بکه | دوو سینگۆشه له نیو چوارگۆشه یه ک دا بکیشه |
| خانویه ک به نیگاری جیاواز بکیشه | |

| | | |
|----------------|----------------|-----------------|
| ↪ | ↪ | ↪ |
| ___ + 70 = ___ | ___ + 30 = ___ | ___ - 100 = ___ |

| | |
|---|----|
| A | 1 |
| B | 2 |
| C | 3 |
| Ç | 4 |
| D | 5 |
| E | 6 |
| Ê | 7 |
| F | 8 |
| G | 9 |
| H | 10 |
| I | 11 |
| Î | 12 |
| J | 13 |
| K | 14 |
| L | 15 |
| M | 16 |
| N | 17 |
| O | 18 |
| P | 19 |
| Q | 20 |
| R | 21 |
| S | 22 |
| Ş | 23 |
| T | 24 |
| U | 25 |
| Û | 26 |
| V | 27 |
| W | 28 |
| X | 29 |
| Y | 30 |
| Z | 31 |

| | |
|------------------------------|-----|
| 14, 18, 14, a, 21, 12 | ... |
| 14, 6, 16, 14, 1, 21, 12 | ... |
| 5, 26, 10, 7, 17, 5 | ... |
| 17, 12, 28, 10, 7, 17, 5 | ... |
| 9, 6, 28, 21, 6, 24, 11, 21 | ... |
| 2, 11, 4, 26, 15, 24, 11, 21 | ... |
| 5, 21, 7, 13 | ... |
| 5, 21, 7, 13, 24, 11, 21 | ... |
| 10, 6, 21, 6, 5, 21, 7, 13 | ... |
| 14, 25, 21, 24 | ... |
| 14, 25, 21, 24, 24, 11, 21 | ... |
| 10, 6, 21, 6, 14, 25, 21, 24 | ... |

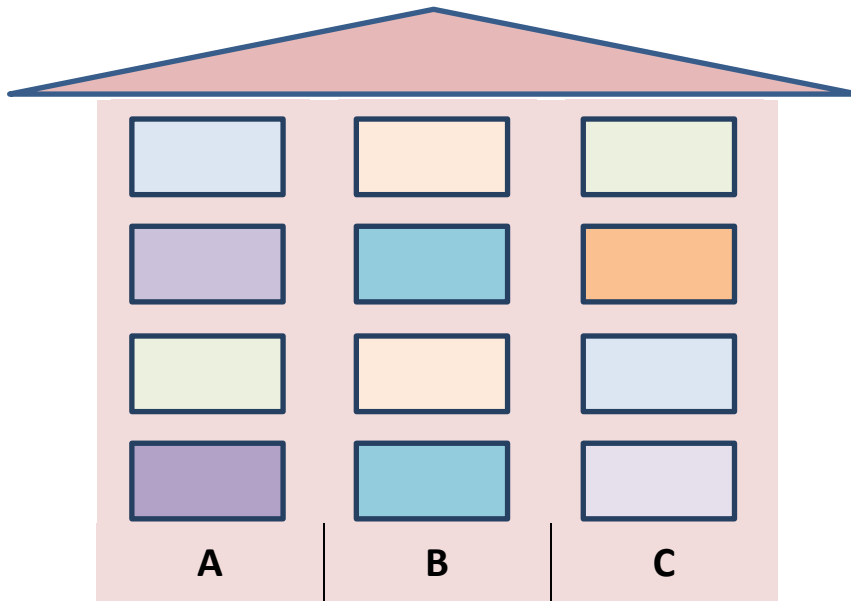
GEWRETIR, BIÇÛKTIR, DRÊJ,
KOKARÎ, KEMKARÎ, HERE KURT,
DRÊJTIR, DÛHÊND, HERE DRÊJ,
KURT, NÎWHÊND, KURTTIR

ناوی خۆت به ژماره بنووسه.

ناوی فیرگه‌که‌ت به ژماره بنووسه.

| | | |
|------------------------|------------------------|------------------------|
| | | |
| $___ + 35 = ___$ | $___ + 30 = ___$ | $___ - 60 = ___$ |

مالی هه‌فاله‌کەت له کۆتییه؟



به‌نیازیت سه‌رده‌دانی هه‌فالیکت بکه‌یت. سه‌رده‌داوه‌کان بخوینته‌وه، بێر بکه‌وه و ئه‌وجا بنووسه.




- ❖ مالی کاردۆ له ده‌روازه‌ی A یه، نهۆمی سییه‌م.
- ❖ مالی ئه‌رده‌وان له ده‌روازه‌ی B یه، نهۆمی چواره‌م.
- ❖ ده‌روازه‌ی مالی ژاله‌ جو‌دایه‌ له‌وه‌ی ئه‌رده‌وان و کاردۆ. ژاله‌ له نهۆمی چواره‌مه.
- ❖ مالی مه‌هۆش ده‌که‌ویته‌ ژێر مالی کاردۆ.
- ❖ مالی ئازاد له نهۆمی یه‌که‌می هه‌مان ده‌روازه‌ی مالی کاردۆیه.
- ❖ مالی هیلین له نهۆمی چواره‌می هه‌مان ده‌روازه‌ی مالی مه‌هۆشه.
- ❖ مالی ئاکۆ هاوده‌روازه‌ی ئه‌رده‌وانه‌ به‌لام له نهۆمی دووه‌مه‌م.
- ❖ مالی ئه‌له‌وند ده‌که‌ویته‌ نیوان ئه‌رده‌وان و ئاکۆوه.
- ❖ مالی گولان له ده‌روازه‌ی C یه، نهۆمی یه‌که‌م.
- ❖ مالی هانا له نهۆمی هه‌ره‌ ژێره‌ و هاوده‌روازه‌ی ئه‌رده‌وانه‌.
- ❖ مالی ره‌وشه‌ن له بان مالی گولانه‌.

مالی هه‌فاله‌کەت ئه‌و مالیه‌ که ماوه‌ته‌وه و هاوده‌روازه‌ی ژاله‌یه. کام مالیه‌؟

| | | |
|----------------|---------------|----------------|
| ↪ | ↪ | ↪ |
| ___ + 20 = ___ | ___ - 5 = ___ | ___ - 20 = ___ |

پرسیاری سې بزاره دهرباره یه که ی پټواندن
بازنه یه که به دهوری وه لامي دروستدا بکيشه.

| 1 | X | 2 | پرسیار |
|----------|---------------------|-----------|--|
| کيلوگرام | ليتر | چرکه | کام يه که ی پټواندن به کار دهينيت بؤ پټواندنې سهنگ (بارسته ی) خوت؟ |
| ميل | کيلومهتر | سانتيمهتر | کام يه که ی پټواندن به کار دهينيت بؤ پټواندنې بالای خوت؟ |
| کاژير | رؤژوشه و | چرکه | کام يه که ی پټواندن به کار دهينيت بؤ پټواندنې کات له راکردنې شپست مه تریدا؟ |
| مهتر | ديسيلتر | کيلوگرام | کام يه که ی پټواندن به کار دهينيت بؤ پټواندنې مهودای مه له کردنې خوت؟ |
| کاژير | مانگ | هفته | کام يه که ی پټواندن به کار دهينيت بؤ دهربرين له مهودای خهوتنې خوت؟ |
| ليتر | کيلومهتر | گرام | کيله رې کام يه که ی پټواندن به کار دهينيت بؤ پيشاندانې مهودا هه تا شاريکی دياریکراو؟ |
| ميل | سال | گرام | کام يه که ی پټواندن به کار دهينيت بؤ دهربرين له ته مهنې خوت؟ |
| ديسيلتر | کيلومهتر له کاژيردا | تون | کام يه که ی پټواندن به کار دهينيت بؤ دهربرين له خيرايبې؟ |

| | | |
|---|--|---|
|  |  |  |
| $___ + 11 = ___$ | $___ - 10 = ___$ | $___ - 4 = ___$ |

خشته

خشته کان بخویننه و نهوجا ئاگاداری ده باره ی مروّقه کان پر بکهوه.

| خشته ی دریژی | |
|--------------|-----|
| Naw | Cm |
| Erdelan | 130 |
| Aram | 145 |
| Sara | 129 |
| Wan | 120 |

| خشته ی بارسته | |
|---------------|----|
| Naw | Kg |
| Erdelan | 41 |
| Aram | 44 |
| Sara | 35 |
| Wan | 30 |

| خشته ی تهمهن | |
|--------------|------|
| Naw | Sall |
| Erdelan | 10 |
| Aram | 9 |
| Sara | 11 |
| Wan | 8 |

| خشته ی ژماره ی خوشکوبرا | |
|-------------------------|------|
| Naw | Dane |
| Erdelan | 1 |
| Aram | 3 |
| Sara | 2 |
| Wan | 1 |

❖ ئه رده لان: ده ساله، سه د و سی سانتیمه تره، چلوبه ک کیلویه و یه ک خوشکوبرای هه یه.

❖ باسی ئارام بنووسه وه:


❖ باسی سارا بنووسه وه:

❖ باسی وان بنووسه وه:

❖ باسی خۆت بنووسه وه:

| | | | |
|-------------------------------|-------------------------------|-------------------------------|--|
| | | | |
| $\text{---} + 5 = \text{---}$ | $\text{---} + 5 = \text{---}$ | $\text{---} + 5 = \text{---}$ | |


ئەمە نەخشەى شارپىيە و لارپى لى دەپتتەو. كىلەرپى نىو نەخشەكە پر بکەو.



- ❖ رینگەى مەيدانى ئەسپسواری دووهەم لارپى راستە.
- ❖ رینگەى ھۆلى سەھۆلۆزى چوارەم لارپى راستە.
- ❖ رینگەى مەلەوانگە دووهەم لارپى چەپە.
- ❖ رینگەى يارىگەى فوتبۆل يەكەم لارپى چەپە.
- ❖ رینگەى فيرگە چوارەم لارپى چەپە.
- ❖ رینگەى باخى يارى سېھەم لارپى راستە.
- ❖ رینگەى كەنار زى يەكەم لارپى راستە.
- ❖ رینگەى مالى خۆتان سېھەم لارپى چەپە.

| | | |
|-------------------------------|--------------------------------|--------------------------------|
| $\text{---} + 3 = \text{---}$ | $\text{---} + 10 = \text{---}$ | $\text{---} - 11 = \text{---}$ |
|-------------------------------|--------------------------------|--------------------------------|

- ❖ ئەوه چييه هەر دەر وات و ناگاته دەرگه؟
- ❖ تۆپ چەند ديوي ههيه؟
- ❖ سه ربانيكه و بنبانيكه، چوار مهر و شوانيكه. چييه؟
- ❖ ئەوه چييه هه تا لبي دەر كه يت گه وره تر ده بيت؟
- ❖ سي پينج پازده، دوو هه فده، سي بيست. ده كاته چەند؟



گەر پێویستت بە یارمەتی بوو سەیری ئەم دێرە بکە.

بەستە، ٦٦٦، بەستە، کتێبگیر، (٦٦٦) کتێبگیر، کتێبگیر

| | | |
|-----------------------|-----------------------|------------------------|
| | | |
| $___ + 5 = ___$ | $___ + 5 = ___$ | $___ - 20 = ___$ |

کیتله پری دستکردی خۆت

کیتله پری سیگۆشه نیشانهی
وریاکردنه وهیه. رهنگه کانیشی سوور،
زهرد و رهشن.



کیتله پریه ک دارپژه بو وریاکردنه وه له
مار.

کیتله پری قهده خه کردن بازنه یه و زۆر
جار هیلنکی به سهردا کیشراوه.
رهنگه کانیشی سوور، زهرد و رهشن.



کیتله پریه ک دارپژه بو قهده خه کردنی
خواردنی به ستهنی.

کیتله پری ئاگاداری چوارگۆشه یه.
رهنگه کانیشی شین و سپی و رهشن.



کیتله پریه ک دارپژه مهودا پیشان
بدات بو ئه و شارهی به نیازیت
سهردانی بکهیت.

| | | |
|--|---|--|
| | | |
| $\underline{\quad} + 11 = \underline{\quad}$ | $\underline{\quad} - 4 = \underline{\quad}$ | $\underline{\quad} - 10 = \underline{\quad}$ |

پۆلینتی ئەلفوبی

بە وردی لەم ئەلفوبییه رامینه.

| | | | | | | | |
|---|---|---|---|---|---|---|---|
| A | B | C | Ç | D | E | Ê | F |
| G | H | I | Î | J | K | L | M |
| N | O | P | Q | R | S | Ş | T |
| U | Û | V | W | X | Y | Z | |

- ❖ کام پیتانه بریتین له سی هیللی ریک؟
- ❖ کام پیتانه شیوهی بازنه یان تێدایه؟
- ❖ کام پیتانه نیشانهی سهروژیریان ههیه؟
- ❖ کام پیتانه هیللی چه مکار (کهوانهیی) یان ههیه؟
- ❖ کام پیتانه به بی دهست هه لگرتن دیته نووسین؟
- ❖ کام پیتانه هاوشیوهی یه کدین؟

خانه کان به پیتی هاوشیوه پر بکهوه:

| | | |
|---|---|---|
| A | O | E |
| N | V | R |

| | | |
|-----------------------|------------------------|------------------------|
| | | |
| $___ + 9 = ___$ | $___ + 10 = ___$ | $___ - 20 = ___$ |

تهونی هزاره کی به دهیان

خانہی ڦالا به ژماره ی گونجاو پر بکھوه.

| | | | | | | | | | |
|-----|-----|-----|-----|-----|-----|-----|-----|-----|-----|
| 10 | 20 | 30 | | 50 | | 70 | | | 100 |
| 110 | | | 140 | | | 170 | | 190 | |
| 210 | 220 | | | 250 | | | 280 | | 300 |
| | | 330 | | | 360 | | | | 400 |
| 410 | | | 440 | | | 470 | | 490 | |
| | 520 | | | 550 | | | 580 | | |
| 610 | | | | 650 | | | 680 | | 700 |
| | 720 | | 740 | | | | 780 | | 800 |
| | | 830 | | 850 | | | 880 | | |
| 910 | | | 940 | | 960 | | | 990 | |

هه ر خانہ یه ک دوو رهنووسی ویکچووی هه یه، به سوور رهنگرپڙی بکه.

خانہ سووره کان چی پیشان دهدهن، بازنه یان تیره سایه؟

هه ر خانہ یه ک رهنووسی یه کی تیدایه، به شین رهنگرپڙی بکه.

خانہ شینه کان چی پیشان دهدهن، هوشه یان برووسکه؟

له تهونی هزاره کیدا کام رهنووس له ههموان زیادتر بوونی هه یه؟

| | | |
|------------------------|------------------------|------------------------|
| | | |
| $___ + 10 = ___$ | $___ + 10 = ___$ | $___ + 10 = ___$ |



شہ ترہنج

ٹہمہ تہختی شہ ترہنج و داشہ کانہہ تی: یہ ک شا،
یہ ک شالیار، دوو قہ لای، دوو ہہ سپ، دوو فیل و
ہہشت سہ رباز.

سہیری ٹہم تہختی شہ ترہنجہ بکہ و بہر سقی
پرسیارہ کان بدہوہ.

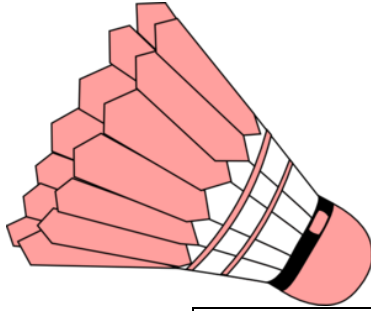
- ❖ داشہ کان چہند رہنگن؟
- ❖ تہختہ کہ چہند خانہ یہ؟
- ❖ چہند خانہ ی رہشہ؟
- ❖ چہند خانہ ی سپیہ؟
- ❖ چہند «سہ رباز» ی سپیہ؟
- ❖ چہند «سہ رباز» ی رہشہ؟
- ❖ چہند داشی سپیہ؟
- ❖ چہند داشی رہشہ؟
- ❖ چہند قہ لای سپیہ؟
- ❖ چہند ہہ سپی رہشہ؟
- ❖ چہند سہ رباز لہ سہر تہختہ؟
- ❖ چہند شالیار دہینیت؟
- ❖ چہند شا دہینیت؟

| | | |
|------------------------|------------------------|-----------------------|
| | | |
| $___ - 10 = ___$ | $___ - 20 = ___$ | $___ + 6 = ___$ |

كى بوو براوهى بادمينتۆن؟

ئەم دۆستانە يارىي «بادمينتۆن» (رېشە) Badminton يان كىردووه و ئەمەش ئەنجامەكان:

| | | | | | |
|-----------------|------|-----------------|------|------------------|------|
| Orato - Hêlîn | 9-11 | Lorîn - Gelawêj | 11-9 | Yaran - Ferhad | 11-9 |
| Hêlîn - Lorîn | 11-3 | Gelawêj – Yaran | 1-11 | Orato - Lorîn | 11-4 |
| Hêlîn - Gelawêj | 11-2 | Lorîn – Yaran | 11-3 | Gelawêj - Ferhad | 2-11 |
| Orato - Gelawêj | 11-9 | Hêlîn – Yaran | 11-9 | Lorîn - Ferhad | 11-9 |
| Orato - Yaran | 11-9 | Hêlîn - Ferhad | 11-7 | Orato - Ferhad | 11-7 |



- ❖ ئۆراتۆ چەند گەمەى كىردووه؟
- ❖ ئۆراتۆ چەند گەمەى بردۆتەوه؟
- ❖ ئۆراتۆ چەند گەمەى دۆراندووه؟

ئەم خىشتەيه بو هەموان پىر بکەوه.

| ناو | ژمارەى يارى | ژمارەى يارى براوه | ژمارەى يارى دۆراو |
|---------|-------------|-------------------|-------------------|
| ئۆراتۆ | | | |
| هێلین | | | |
| لۆرین | | | |
| گەلاوێژ | | | |
| ياران | | | |
| فەرهاد | | | |

- ❖ كى زۆرتىن يارىي بردۆتەوه و به يەكەم ناو دىر كراوه؟ - - - - -
- ❖ كى دووهەمە؟ - - - - - كى سېهەمە؟ - - - - -
- ❖ كى چوارەمە؟ - - - - - كى پىنجەمە؟ - - - - -
- ❖ كى شەشەمە؟ - - - - -

| | | |
|---|---|---|
| $\xrightarrow{\quad}$ $\xrightarrow{\quad}$ $\xrightarrow{\quad}$ | $\xrightarrow{\quad}$ $\xrightarrow{\quad}$ $\xrightarrow{\quad}$ | $\xrightarrow{\quad}$ $\xrightarrow{\quad}$ $\xrightarrow{\quad}$ |
| $__ + 11 = __$ | $__ + 11 = __$ | $__ + 11 = __$ |

خشته ی پۆل

فهرموو خسه ی پۆله كهت پر بكهوه. وانه كان: كوردی K، ئینگلیزی E، ماته ماتیک: Ma، موزیک Mu، وهرزش W، هونه کاری: H، وانه كانی ریدۆزی: R (بابه ته كانی سه رده ر كردن له زانست، میژوو، جیۆگرافیا...)، وانه ی خۆفه رمان: XO (فیرخواز به رنامه ی خۆی داده ریتیت و مامۆستا هاریكاره).

- ❖ موزیک: پینجه م وانه ی سیشه ممه.
- ❖ هونه کاری: چواره م وانه ی یه كشه ممه و پینجشه ممه.
- ❖ وهرزش: چواره م وانه ی دووشه ممه و چوارشه ممه.
- ❖ وانه ی خۆفه رمان: پینجه م وانه ی دووشه ممه و چوارشه ممه.
- ❖ كوردی: یه كه م وانه و كۆتا وانه ی هه موو رۆژیک.
- ❖ ئینگلیزی: سیهه م وانه و هه فته م وانه ی هه موو رۆژیک.
- ❖ ماته ماتیک: دووهه م وانه ی هه موو رۆژیک.

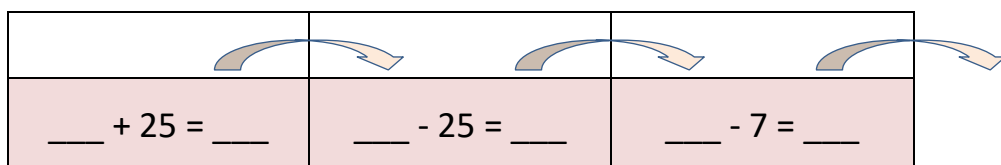
ئه و كاتانه ی ده مینیت بۆ وانه كانی ریدۆزیه كه زانست، میژوو، جیۆگرافیا و دین به سه ر ده كاته وه.

| كات | یه كشه ممه | دووشه ممه | سیشه ممه | چوارشه ممه | پینجشه ممه |
|-------------|------------|-----------|----------|------------|------------|
| 8:00-8:40 | K | | | | |
| 8:40-9:20 | | Ma | | | |
| 9:20-10:00 | پشوو | | | | |
| 10:00-10:40 | | | E | | |
| 10:40-11:20 | | W | | H | |
| 11:20-12:00 | فراقین | | | | |
| 12:00-12:40 | | | | | |
| 12:40-13:20 | | | | | |
| 13:20-14:00 | | | E | | |
| 14:00-14:40 | | | K | | |

كام رۆژی فیرگه له هه موان خۆشتره؟ ----- بۆ؟ -----

| | | | |
|--------------------|--------------------|-------------------|--|
| | | | |
| _____ - 20 = _____ | _____ - 20 = _____ | _____ + 6 = _____ | |

| | | | | | | | | |
|------|------|------|-----|----|---|---|---|---|
| 1 | 2 | 3 | 4 | - | - | - | - | - |
| 1 | 3 | 5 | 7 | - | - | - | - | - |
| 2 | 4 | 6 | 8 | - | - | - | - | - |
| 3 | 6 | 9 | - | - | - | - | - | - |
| 5 | 10 | 15 | 20 | - | - | - | - | - |
| 10 | 20 | 30 | 40 | - | - | - | - | - |
| 100 | 200 | 300 | 400 | - | - | - | - | - |
| 1000 | 2000 | 3000 | - | - | - | - | - | - |
| 50 | 49 | 48 | 47 | - | - | - | - | - |
| 100 | 98 | 96 | 94 | 92 | - | - | - | - |



پسولەيە كى پەنھان

تەماشای ئەم پسولەيە بکە.

| فروشيگه‌ی شاره‌زوور | | |
|---------------------------------|------------------|----------------|
| به‌روار: 20-03-2017 کات: 11:30. | | |
| دۆلار | بابەت | |
| 2.90 | خۆشاوی پرتەقال | |
| 49.90 | مريشکي برژاو | |
| 15.50 | قاوه | |
| 9.80 | نان | |
| 14.90 x | دوو کيسه | |
| 5.50 | شير | |
| 6.40 | ماست | |
| 11.50 | رۆنه‌که‌ره | |
| 12.90 | پاکه‌تي شه‌شه‌کي | هیلکه‌ی گه‌وره |
| 17.50 | لۆبیا | |
| 16.50 | فاسۆلیا | |
| 148.4 | کۆی گشتی | |
| 200 | دراف | له‌ کړياره‌وه |
| 51.6 | دراف | بۆ کړيار |

- ❖ رۆژ و کاتی ئەم بازارپیه‌ که‌ی بووه‌؟
- ❖ کۆی گشتی ئەم خه‌رجیه‌ کردیه‌ چهند؟
- ❖ جۆری پاره‌دانه‌ که‌ چۆن بوو، به‌ کارت یان دراف؟
- ❖ فروشیار چهندي گه‌رانه‌وه‌ بۆ کړيار؟
- ❖ کام بابەت له‌ هه‌موان گرانتر بوو؟
- ❖ کام بابەت له‌ هه‌موان هه‌رزانتتر بوو؟
- ❖ چهند بابەت له‌م پسولەيەدا هه‌یه‌؟

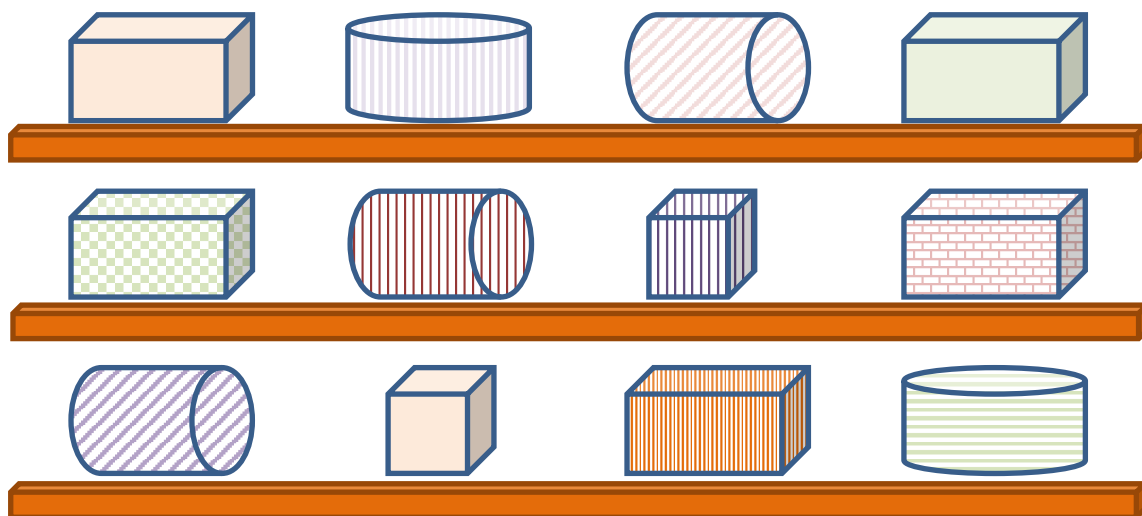
باس له‌ پسولەيە کي خۆت بکە.



| | | |
|---------------|---------------|---------------|
| | | |
| ___ + 5 = ___ | ___ + 5 = ___ | ___ + 7 = ___ |

گه نجي شاراوه

که رهسته ی نیو ئم پاکه تانه بنووسه و ئه وه ی ده مینیت فه شارگه ی گه نجه.




- ❖ پینووسی سوور - خشته کی سه رپه ری چه پ، ره ففه ی سه ره وه
- ❖ وینه ی گول - لووله کی چه پ، ره ففه ی سه ره وه
- ❖ وینه ی پشيله - لووله کی راست، ره ففه ی سه ره وه
- ❖ پینووسی شین - خشته کی سه رپه ری راست، ره ففه ی سه ره وه
- ❖ گوڤاری زانست - خشته کی سه رپه ری چه پ، ره ففه ی ناوه ند
- ❖ کارتی گورانیبیژان - لووله کی ره ففه ی ناوه ند
- ❖ کارتی یاریزانان - شه شپالووی ره ففه ی ناوه ند
- ❖ گوڤاری موزیک - خشته کی سه رپه ری راست، ره ففه ی ناوه ند
- ❖ شان و ئاوینه - لووله کی سه رپه ری چه پ، ره ففه ی خواره وه
- ❖ کاتزمیری کون - خشته کی ره ففه ی خواره وه
- ❖ پینووسی مؤر - لووله کی سه رپه ری راست، ره ففه ی خواره وه

گه نجه که له کویدا یه؟

| | | | |
|-------------------|-------------------|--------------------|--|
| | | | |
| _____ + 5 = _____ | _____ + 5 = _____ | _____ - 20 = _____ | |

پەنجۇرى



پېنج ژمارەيە كى سەرنجرا كېشە. ھەر دەستىك پېنج پەنجەي ھەيە. جار ھەيە بۇ ژماردن، پېنج بەم جۆرە دەنووسرېت: بەو جۆرە ژمارەدنه دەلېين «چىلكە ژمېر».

ئەم پىرسىارانە ئاراستەي پۆلە كەت بگە و لە جىيى خۇيدا ھىل بگىشە بۇ ھەر وەلامىك.

| ھەفتانەت ھەيە؟ | |
|----------------|------|
| نا | ئەرى |


| ھەموو رۆژىك سەيرى تېقى دەكەيت؟ | |
|--------------------------------|------|
| نا | ئەرى |

| چەند خوشكوبرات ھەيە؟ | | | |
|----------------------|----|-----|-----|
| زۆرتەر لە سى | سى | دوو | يەك |

| ھەموو رۆژىك دەخوئىتتەوہ؟ | |
|--------------------------|------|
| نا | ئەرى |

- ❖ چەند كەس ھەفتانەيان ھەيە؟
- ❖ چەند كەس ھەفتانەيان نىيە؟
- ❖ ئايە زۆرىنەن ئەوانەي رۆژانە سەيرى تېقى دەكەن؟
- ❖ كام ژمارەي خوشكوبرا ھەرە باوہ لەم پۆلەدا؟
- ❖ پىرسىارت لە چەند كەس كىردووہ؟
- ❖ چەند وەلامت وەرگرتەوہ؟

| | | | |
|---------------------------------|---------------------------------|---------------------------------|--|
| | | | |
| $\text{---} + 100 = \text{---}$ | $\text{---} + 100 = \text{---}$ | $\text{---} - 200 = \text{---}$ | |



مىوه بۇ پۆلەكەت بىكره

به چوار شىوهى جياواز بايى سهد
دۆلار مىوه بۇ پۆلەكەت بىكره. ناوى
مىوه و نرخه كەى لىرهدا تۆمار بكه.

| مىوه | دۆلار |
|---------|-------|
| هه نار | 15 |
| ترئ | 25 |
| سىو | 20 |
| پرتەقال | 10 |
| هه نجير | 5 |
| گىلاس | 25 |

| | |
|---|---|
| A | B |
| C | D |

به بۆچوونى تۆ كام له و چوار شىوازه باشترينه؟

| | | |
|------------------------|------------------------|-----------------------|
| $___ + 20 = ___$ | $___ - 10 = ___$ | $___ - 9 = ___$ |
|------------------------|------------------------|-----------------------|

تہونیکہ دیکھی سہدہ کی

خانہ فالاکان پر بکہوہ.

| | | | | | | | | | |
|----|----|----|----|----|----|----|----|----|----|
| 0 | 1 | 2 | | 4 | | 6 | | 8 | 9 |
| 10 | 11 | | | | 15 | 16 | 17 | | |
| 20 | | | | | 25 | | | | 29 |
| | 31 | | 33 | | | | | 38 | |
| 40 | | | | 44 | | | | | |
| | | 52 | | | | | | | |
| | 61 | | | | | | | | 69 |
| | 71 | | | | | | 77 | | |
| 80 | | | | 84 | | | | 88 | |
| | 91 | | | | | | | | 99 |



نیشانہ **X** لہ ژمارہ سی بدہ. ٹہوجا سیی بخہ سہر و ٹہمیش بہ **X** نیشانہ بکہ. پاشان بہردہوام بہ، سی بخہ سہر ژمارہی نوئی و بہ **X** نیشانہی بکہ. چی دہینیت، ہیٹی لار یان بازنہ؟



ٹہوجا ہمان کار تہ ک ژمارہ چوار بکہ. چوار بہ بازنہ **O** نیشانہ بکہ، چواری بخہ سہر و ٹہمیش بہ **O** نیشانہ بکہ و پاشان بہردہوام بہ. چی دہینیت، میلدارہ یان خالخال؟

| | | |
|-------------------|-------------------|-------------------|
| _____ | _____ | _____ |
| _____ + 7 = _____ | _____ + 3 = _____ | _____ - 9 = _____ |

| | | | | | | |
|----|----|----|-----|----|-----|----|
| E1 | F1 | D2 | G2 | C3 | H3 | B4 |
| I4 | A5 | J5 | B6 | I6 | B7 | H8 |
| D8 | G8 | E9 | E10 | F9 | F10 | C8 |
| D4 | G4 | D6 | E7 | F7 | G6 | I7 |

چی دهینیت؟

نیشانهی X بده لهو خانهیهی
پیت و ژماره کهی یه کانگیرن.

| | | | | | | | | | | |
|----|---|---|---|---|---|---|---|---|---|---|
| | A | B | C | D | E | F | G | H | I | J |
| 1 | | | | | | | | | | |
| 2 | | | | | | | | | | |
| 3 | | | | | | | | | | |
| 4 | | | | | | | | | | |
| 5 | | | | | | | | | | |
| 6 | | | | | | | | | | |
| 7 | | | | | | | | | | |
| 8 | | | | | | | | | | |
| 9 | | | | | | | | | | |
| 10 | | | | | | | | | | |

چی دهینیت، رووخسار یان مهل؟

| | | | |
|---------------|----------------|----------------|--|
| | | | |
| | | | |
| ___ + 8 = ___ | ___ + 10 = ___ | ___ - 10 = ___ | |

په‌یژه‌ی ته‌لوه‌ند

ته‌لوه‌ند و هه‌فالی‌ک به‌نیازن په‌یژه‌یه‌ک دروست بکه‌ن پیی بچه‌ سه‌ر دره‌خت.



- ❖ در‌یژی ته‌م په‌یژه‌یه‌ چهنده، دووسه‌د یان سیسه‌د سانتیمه‌تر؟
- ❖ پانی ته‌م په‌یژه‌یه‌ چهنده، په‌نجا یان سه‌د سانتیمه‌تر؟
- ❖ ته‌لوه‌ند نیژیکه‌ی چهنده مه‌تر داری پیوسته‌ بو ته‌م په‌یژه‌یه‌؟ له نیوان پینج مه‌تر و ده مه‌تر کامیان باشه‌؟
- ❖ کوئی ته‌م په‌یژه‌یه‌ ده‌بیت بزمارکوت بکریت؟ بازنه‌یه‌کی به‌ ده‌وردا بکیشه‌. چهنده بزمار پیوسته‌؟
- ❖ تو به‌ چهنده کاژیر په‌یژه‌یه‌کی وه‌ها دروست ده‌که‌یت. یه‌ک یان دوو کاژیر؟

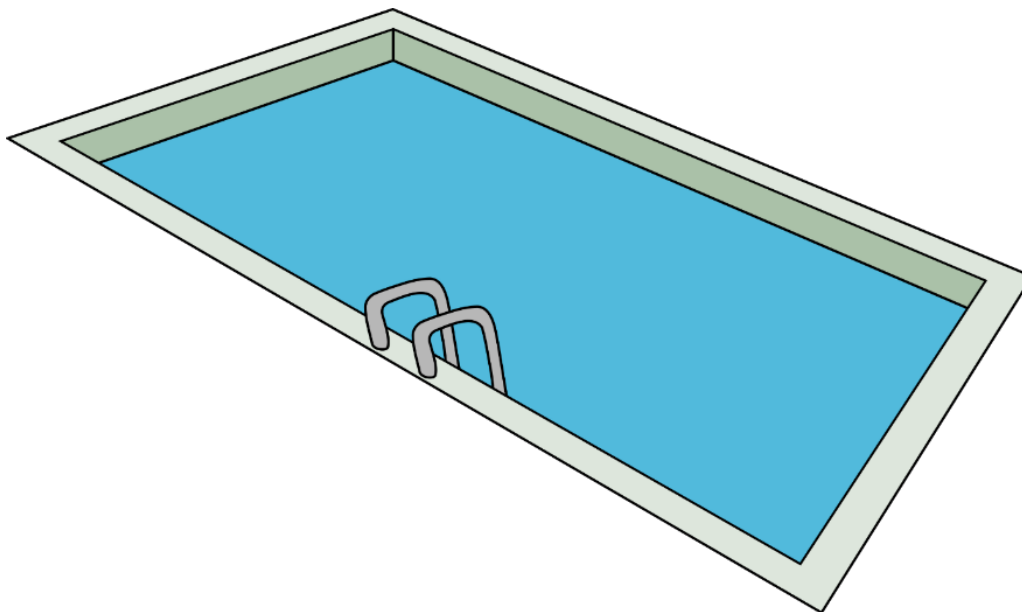
بو دروستکردنی په‌یژه‌، کام له‌م ئامیرانه‌ پیوستن؟

داربره‌ک (مینشار)، ره‌نده، چه‌کوش، مه‌تره‌پیو، پلایس، ده‌رنه‌فیز، بزمار، گه‌وه‌ک، بزمارکیش، کاخه‌زی سمارته، مه‌کینه‌ی دروومان، شیشی چین، ملاک (مراک، که‌وچک)، ئامیری کونکه‌ره، چاویلکه‌ی چاوپاریز، کلاوی سه‌رپاریز.

| | | | |
|-------------------|-------------------|-------------------|--|
| | | | |
| _____ - 5 = _____ | _____ - 5 = _____ | _____ - 5 = _____ | |

مهله وانگه

بۆله كه تان ده چیت بۆ مهله وانگه. گۆلی مهله بیستوپینج مهتر دریژه.



تهم خشته یه پر بکهوه بۆ تهوهی دیار بیت چند مهتر مهله کراوه.

| | | | | | | | | | | |
|----|----|------|------|-----|------|------|----|-----|-----|------|
| | | | | | | | | | 25 | مهتر |
| ده | نۆ | ههشت | ههفت | شهش | پینج | چوار | سی | دوو | یهک | سه |
| سه | سه | سه | سه | سه | سه | سه | سه | سه | سه | سه |

❖ ههتا تهمرۆ دریژترین مهودا چندت مهله کردووه؟

❖ تهو مهودایه یه کسانه به چند سه؟

❖ نیزیکهی چند خوله کی خایاند؟

| | | |
|--------------------------------|--------------------------------|--------------------------------|
| | | |
| $\text{---} + 50 = \text{---}$ | $\text{---} + 10 = \text{---}$ | $\text{---} - 50 = \text{---}$ |

ليستۆك بۆ پۆله كەت

كەلۈپەلى يارى بايى پىنجسەد دۆلار بۆ پۆله كەت بىرە.



100 تۆپى باسكىتبول

150 سىتى بادمىنتون

10 تۆپى تىنس

350 سكوتەر Scooter

25 تەنافى پەتپەتتىن

50 تۆپى فوتبول

15 سىتى شەترەنج

مەرجه دەپت پىنج ليستۆك يان زىادتر بىرپت بۆ ئەوئەى زۆرتىن كەس يارى بىكەن. دوو بزارە نىگار كىش بىكە و بۆچوونە كەى خۆت راقە بىكە.

A

B

بە دىدى تۆ كام لەو دوو بزارەيە باشترىنە؟

| | | |
|-------------------|-------------------|--------------------|
| _____ + 5 = _____ | _____ + 4 = _____ | _____ - 10 = _____ |
|-------------------|-------------------|--------------------|

چۆن دەكەیت؟



كارهكهی خۆت به نیگار كیشان و به نووسین راقه بکه:

| | |
|--|---|
| ئەم پارچە چۆكلادە دابەش بکه بۆ هەفت بەشی یه كسان. | ئەم پارچە چۆكلادە دابەش بکه بۆ چوار بەشی یه كسان. |
| ئەم پارچە چۆكلادە دابەش بکه بۆ دوو بەشی نایه كسان. | ئەم پارچە چۆكلادە دابەش بکه بۆ سی بەشی نایه كسان. |

| | | |
|-------------------|--------------------|--------------------|
| | | |
| $__ + 9 = __$ | $__ + 10 = __$ | $__ - 30 = __$ |

سوودۆکوو Sudoku به چوار ژماره

له «سوودۆکوو» دا ژماره ی بزر هه یه. ئەمه یان «سوودۆکوو» یه کی پره.

| | | | | | |
|---|-------|---|---|---|-----------------|
| ↓ | ستوون | | | | |
| 1 | 2 | 3 | 4 | ← | دیڤ |
| 4 | 3 | 2 | 1 | ← | چوارگۆشه ی شین |
| 2 | 1 | 4 | 3 | ← | چوارگۆشه ی سوور |
| 3 | 4 | 1 | 2 | | |

❖ ئایا ژماره کانی 1, 2, 3, 4 له گشت ستوونه کاندایه ن؟ ئه ری / نا

❖ ئایا ژماره کانی 1, 2, 3, 4 له گشت دیڤه کاندایه ن؟ ئه ری / نا

❖ ئایا ژماره کانی 1, 2, 3, 4 له گشت چوارگۆشه کاندایه ن؟ ئه ری / نا

خانه ی قالا پر بکه وه:

| | | | |
|---|---|---|---|
| 3 | | 1 | 4 |
| 1 | 4 | | 2 |
| | 1 | 2 | 3 |
| 2 | 3 | 4 | |

ئایا ژماره کانی 1, 2, 3, 4 له گشت ستوونه کاندایه ن؟

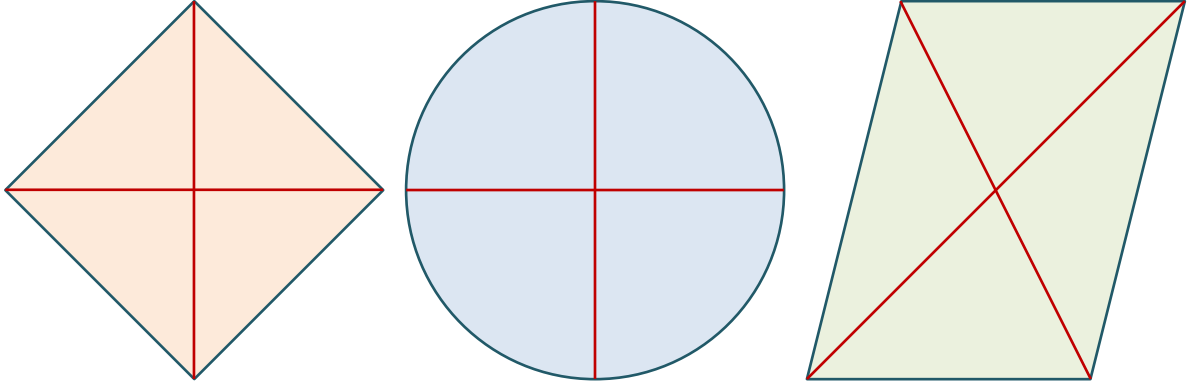
ئایا ژماره کانی 1, 2, 3, 4 له گشت دیڤه کاندایه ن؟

| | | | |
|---|---|---|---|
| | 3 | 1 | 2 |
| 2 | 1 | | 4 |
| 3 | 4 | | 1 |
| 1 | | 4 | |

| | | |
|---------------------|---------------------|---------------------|
| _____ + 100 = _____ | _____ + 100 = _____ | _____ - 100 = _____ |
|---------------------|---------------------|---------------------|

زانرۆژی له کام مانگدايه؟

چارهگ (چارهك) ئهوهيه بابهتيك دابهش بکهيت بۆ چوار بهشی يه کسان.



سال بریتیه له چوار چارهگ و ههر چارهگینک بریتیه له سی مانگه.

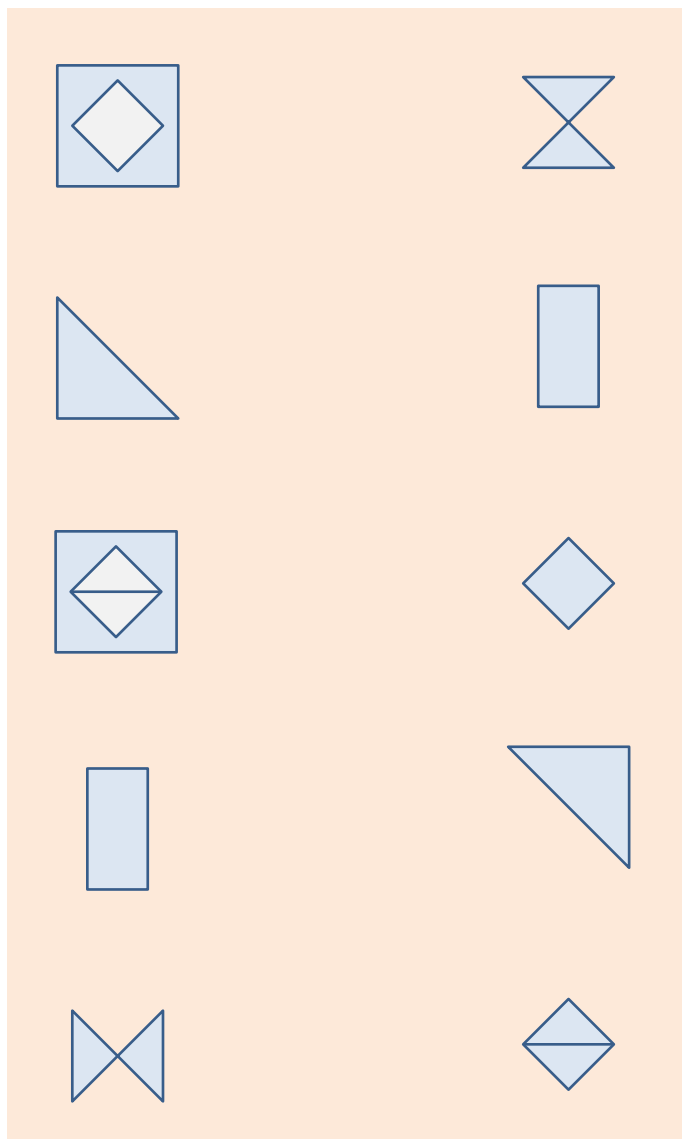
| | | | |
|------------|------------------|--------------|---------------|
| January 31 | February 28 (29) | March 31 | چارهگی يه کهم |
| April 30 | May 31 | June 30 | چارهگی دووههم |
| July 31 | August 31 | September 30 | چارهگی سههم |
| October 31 | November 30 | December 31 | چارهگی چوارهم |

- ❖ زانرۆژی تهوار له مانگیكدايه سيويهك رۆژی ههيه و دهكهويته چارهگی دووههم. کام مانگهيه؟
- ❖ زانرۆژی نارين له مانگیكدايه سالی پر بيستونۆ رۆژی ههيه. کام مانگهيه؟
- ❖ زانرۆژی سهروهه له مانگیكدايه سی رۆژی ههيه و دهكهويته چارهگی سههم. کام مانگهيه؟
- ❖ زانرۆژی نازهنين له مانگیكدايه سی رۆژی ههيه و دهكهويته چارهگی چوارهم. کام مانگهيه؟
- ❖ زانرۆژی رۆبهرت له مانگیكدايه ناوهکهی به زمانی ئینگلیزی کهمترین پیتی ههيه. کام مانگهيه؟

| | | | |
|-----------------------|-------------------------|-----------------------|--|
| | | | |
| $___ + 9 = ___$ | $___ - 100 = ___$ | $___ + 5 = ___$ | |

چوارگۆشه‌ی لێ ساز بکه

هێلێک راکیشه له نیوان دوو نیگاردا چوارگۆشه بیک بهینن.



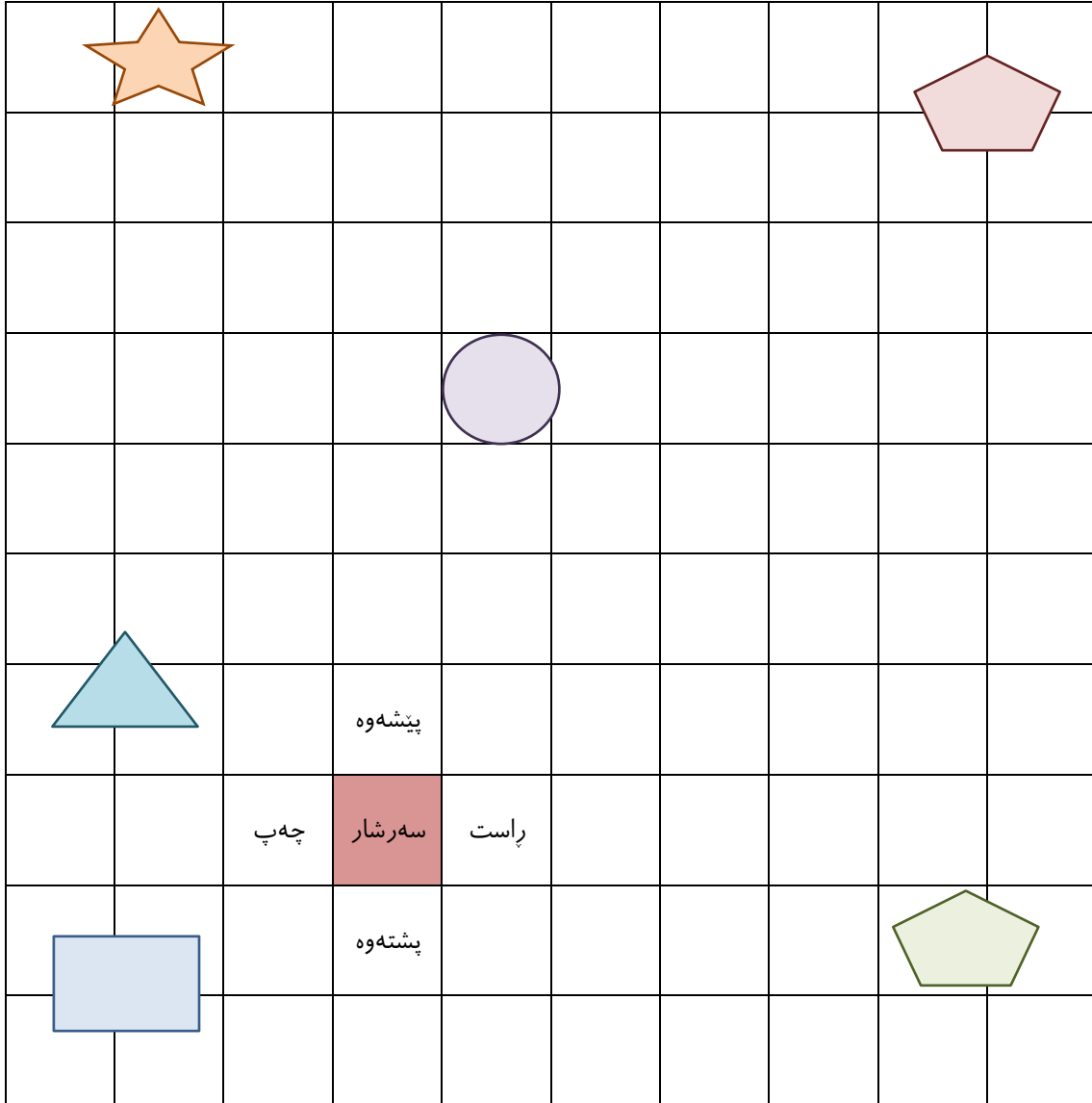
| | | | |
|-------------------|--------------------|--------------------|--|
| | | | |
| $__ + 7 = __$ | $__ + 10 = __$ | $__ - 14 = __$ | |

نیگار دۆزی




به پینووس و راسته شوینییی رسته کان هه لېگره وه و بزانه ده گه یته کام نیگار.

❖ له «سه رشار» هوه بکه وه ری.

❖ دوو سانتیمه تر بو پیشه وه. چوار سانتیمه تر بو راست. سی سانتیمه تر بو پیشه وه. شهش سانتیمه تر بو چه پ. دوو سانتیمه تر بو پیشه وه.



گه یشتیته کام نیگار؟


| | | |
|---|--|---|
|  |  |  |
| $___ + 20 = ___$ | $___ + 10 = ___$ | $___ - 45 = ___$ |

سه‌نگی نهم باره چندده؟
گر ده‌ته‌ویت ژمیرک به‌کار بهینه.




35 kg

سیوپینج کیلویه.




45 kg

باره‌که‌ی چند کیلویه؟



55 kg

























باره‌که‌ی چند کیلویه؟



75 kg

باره‌که‌ی چند کیلویه؟

| | | | |
|---|---|---|--|
| | | | |
| $\underline{\quad} + 100 = \underline{\quad}$ | $\underline{\quad} + 100 = \underline{\quad}$ | $\underline{\quad} - 200 = \underline{\quad}$ | |

| | | |
|---|---|---|
|  ___ + 6 = ___ |  ___ + 10 = ___ |  ___ - 7 = ___ |
|  ___ + 7 = ___ |  ___ + 10 = ___ |  ___ - 11 = ___ |
|  ___ + 8 = ___ |  ___ - 10 = ___ |  ___ - 7 = ___ |
|  ___ + 9 = ___ |  ___ + 10 = ___ |  ___ - 7 = ___ |
|  ___ - 10 = ___ |  ___ - 10 = ___ |  ___ + 7 = ___ |
|  ___ + 11 = ___ |  ___ + 10 = ___ |  ___ - 11 = ___ |
|  ___ + 12 = ___ |  ___ + 10 = ___ |  ___ - 7 = ___ |
|  ___ + 5 = ___ |  ___ + 10 = ___ |  ___ - 40 = ___ |

Amanc

بەرۆكگىرى دىكە

وېتەنەكى وەرزشى لە گوڤار و رۆژنامە داېرە. بىكە بە دە پارچەو و پاشان ھەول بە پارچە كان لە يەك بەدەتەو.

❖ لاپەرەى رۆژنامە يەك بگرە دەست و بکەو ژمارەدۆزى. ھەر ژمارە يەكت دۆزىيەو بەزەنەكى لە دەور بکېشە.

❖ لىستىك بکە بە خۆشترىن دە جۆر مېوہى خۆت پىت خۆشن.

❖ خۆت فېر بکە بە چەند زمانىكى دىكە ھەتا پىنج بژمىرەت.

❖ گرېمان ھەزار دۆلار بە ديارى وەرگرت. چى لى دەكەيت؟ بىنووسە.

❖ لىستىك بە ژمارەى تەلەفونى ھاوړىكانت ئامادە بکە.

❖ لە ماوہى پىنج خولە کدا دەتوانىت چەند ژمارەى جياواز بنووسىت؟ ژمارە سەد بکە دەستپىك.

❖ لە ماوہى پىنج خولە کدا ھەتا چەند دەتوانىت بژمىرەت؟ ژمارە سەد بکە دەستپىك.

❖ گەمەى بەرد/مەقەست/كىسە Paper-rock-scissors فېرە و تەك ھەقائىكدا بىكەنە كىبەر كى.

❖ داوا لە ھەقائىكت بکە يارى شەترەنجت

فېر بکات.

❖ نەخشە يەك بکېشە رېگەى نىوان مالهو و

فېرگە روون بکاتەو. نەخشە كە بۆ ھەقائىك

راقە بکە.

❖ درىژى، پانى و بەرزى كەلوپەلى پۆل بېئوہ

و پاشان نەخشەيان لى بکېشە. ئەوجا داوا

لە ھەقائانت بکە ھەلى بىن وىتەى سەر

نەخشە كام كەلوپەلە لە پۆلدا؟

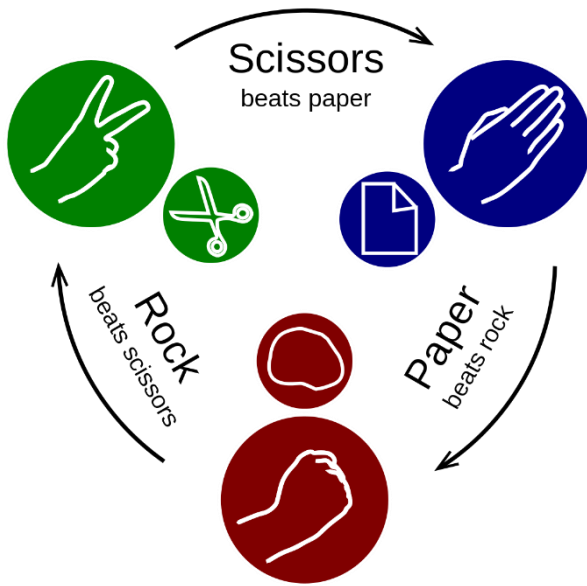
❖ ژمىر كارىى سەخت بۆ خۆت بنووسە و

پاشان بە ژمىر ك ئەجامدۆزىان بکە.

❖ چىرۆك دەربارەى دووچەرخە يەك بنووسە.

ھەول بە نووسىنە كەت چەند ژمارە يەكى تىدا بىت.

❖ تەماشای وانە كانى ئەم كىتبه بکە و ھەول بە وانەى ماتەماتىكى تايبەت بە خۆت دارىژىت.



- ❖ بەروار - - - - -
- ❖ پۆل - - - - -
- ❖ ناوی مامۆستا کەت - - - - -
- ❖ ناوی هەفالی هاریکار - - - - -
- ❖ کام لاپەرە لە هەموان خۆشتر بوو؟ - - - - -
- بۆچی؟ - - - - -
- ❖ ئایا گفتوگۆت دەربارەی کارەکانی خۆت تەک مامۆستا و فێرخوازی دیکە کردوو؟
چەند و چۆن؟ راقەى بکە - - - - -
- ❖ ژمیرکت بۆ ئەنجامدۆزیی پرسیاره کانی ئەم کتیبە بە کار هێناوه؟ چەند و چۆن؟
راقەى بکە - - - - -
- ❖ بە دەم ئەنجامدۆزیی پرسیاره وه نیگار دە کیشیت؟ - - - - -
بۆچی؟ - - - - -
- ❖ بە بۆچوونی تۆ، کەى باشتەین کاتە بۆ فێربوونی ماتەماتیک؟ - - - - -
- ❖ چی هەیه لە ماتەماتیکدا پیت خۆشه زیادتری لی بزانیته؟ - - - - -

www.sica.se

«...»