

تاقی کردنه‌وهی رووپیوی

بیرکاری

M1

وه‌رزی دووهه‌م

..... ناو: .....

..... پۆل و هۆبه: .....

..... فیترگه / قوتابخانه: .....

..... ریکه‌وت: 20 . . .



دانانی

شیرزاد مسته‌فا همه‌د

پسپۆر و سه‌رپه‌رشتیاری په‌روه‌ده‌یی

کۆمه‌ک 2009

## چۆنیه تی به کارهینانی M1

تاقیکردنه وهی رووینوی بیر کاری M1 ههنگاوینکی سه ره کییه بۆ دیاری کردنی ئاستی زانیاری مندال و پیاده کردنی پلانی کار. ئەم ههلسهنگاندنه ی له بهردهستدایه له کۆتایی وهرزی دووهه م بۆ پۆلی یه که می به کار دهینیت، ده کریت له ناوه راستی وهرزی یه که می پۆلی دووهه میس به کاربیت. له دوا لاپه ره ی ئەم تاقیکردنه وه یه دا، نمره کان به پپی برگه دیاری کراون، ئەو کات بۆ مامۆستا لایه نه لاوازه کانی فیرخواز دهرده که ویت که ده بیت کاری له سه ر بکریت.


ئهنجامی ئەم تاقی کردنه وه یه تنه ا لای مامۆستا ده بیت و ئاشکرا ناکریت و نابیت که سی دیکه جگه له مامۆستا بیزانیت، چونکه مه به ست له م تاقی کردنه وه یه دیاری کردنی ئاستی فیرخوازه هاوکات دیاری کردنی گه یشتن به ئامانجه که حکومه تی کوردستان داواکاره له مامۆستا که ئەو زانیاریانه فیری مندال بکات.

ئهنجامی ئەم تاقیکردنه وه یه ده کریت له دیداری گه شه دا پیشانی دایکوباوکان بدریت، بۆ ئەوه ی ئەوانیش بتوانن هاوکار بن له گه شه پیدان و کارامه یی منداله کانیان.

ئەم نمونه یه ش ئەزمونیه و سه ره تایه که بۆ ئاسانکاری کاری مامۆستا و گه یشتن به ئامانجه دیاری کراوه کانی وهزاره تی فیرکاری وه لات. له داها توودا به پپی سه رنجی مامۆستایان ده کریت گۆرانکاری تیدا بکریت.

مامۆستای ئازیز هه ر سه رنجیکت هه بوو دهرباره ی ئەم تاقیکردنه وه یه، تکایه سه ریه رشتیاری په یوه ندیدار ئاگادار بکه ره وه.

تییینی / 1- وهرزی دووهه م له 01.02 ده ست پیده کات تا کۆتایی سال.



# A ناسین و خویندنه‌وه و نووسینی ژماره‌کان:

## A1 / ژمارهی گونجاو ده‌ور بدہ

<p>(3)</p>	<p>(2)</p>	<p>(1)</p>
15        57        75	50        55        51	27 37 73

## A2 / به‌های خانه‌کان بنووسه

<p>(3)</p>	<p>(2)</p>	<p>(1)</p>
$\text{_____} = \text{_____} + \text{_____}$ $\text{_____} = \text{_____} + \text{_____}$	$\text{_____} = \text{_____} + \text{_____}$ $\text{_____} = \text{_____} + \text{_____}$	$\text{_____} = \text{_____} + \text{_____}$ $\text{_____} = \text{_____} + \text{_____}$

## A3 / ئەم خشته‌یه‌ی خواره‌وه ته‌واو بکه

										24	23	(1)	
				81					77			73	(2)

## A4 / ئەو ژمارانه‌ی له پیش و پاش دین بیان نووسه

(1) 49 \_\_\_\_\_ 50 (2) 70 \_\_\_\_\_ (3) 69 \_\_\_\_\_ 89 \_\_\_\_\_ (4)

## B شيوازه كان

B1 / شيوازه كان به كاربهينه و ژماره‌ی ناديار بنوسه

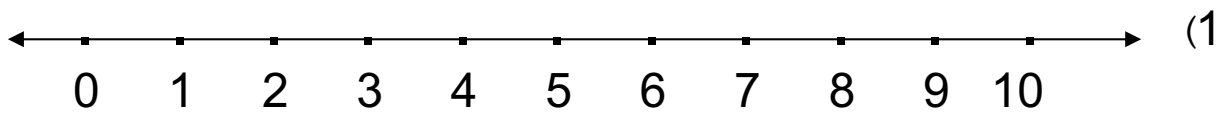
			18					8			2
		50					25				5
					60						10

B2 / هيماي < گوره‌تر يان > بچوو کتر له ناو  دابني

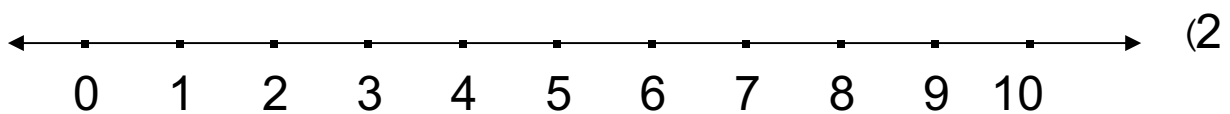
56  46 (2) 74  47 (1)

20  30 (4) 78  87 (3)

B3 / به كارهيټناني هيلى ژماره‌كان، ئه‌نجامي ئه‌مانه‌ي خواره‌وه بدؤزه‌ره‌وه


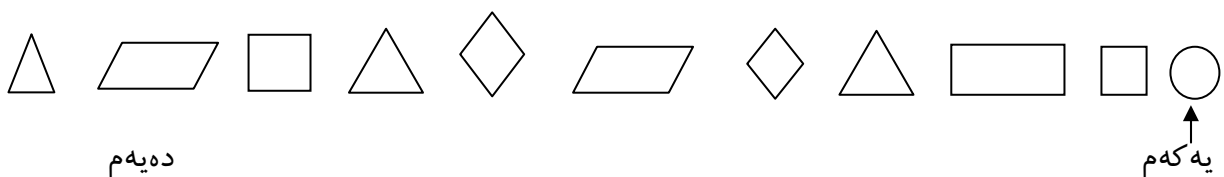


$$\underline{\quad} = 2 - 9$$



$$\underline{\quad} = 3 + 6$$

B4 / شيوه‌ي پينجه‌م و هه‌شته‌م ده‌ور بده.



## C کرداری کۆکرنهوه

C1 ئەنجامی ئەمانه‌ی خواره‌وه بدۆزهره‌وه

63	(5	35	(4	50	(3	2	(2	9	(1
<u>14 +</u>		<u>4 +</u>		<u>40 +</u>		7		<u>6 +</u>	
						<u>3 +</u>			

C2 وه‌لامی گونجاو هه‌لبژیره

كام رسته‌ی کرداری 4 یه‌کی و 8 ده‌یی ده‌نویتی

$4+80$

$40+8$

$40+50$

$0+80$

C3 9 مندال گۆرانی ده‌لین، 7 مندالی دیکه‌ش هاتن بو لایان، ئایا بوون به

چه‌ند مندال؟

$$\underline{\hspace{2cm}} = \underline{\hspace{2cm}} + \underline{\hspace{2cm}}$$

C4 نزار 11 پینووسی کرێ، پاشان 3 پینووسی دیکه‌ی کرێ، ئایا سه‌رجه‌م

چه‌ند پینووسی کرێوه؟



## D کرداری لیدەر کردن

D1 ئەنجامی ئەمانەى خوارەوه بدۆزەرەوه

7 (4	6 (3	9 (2	8 (1
<u>1</u> -	<u>6</u> -	<u>3</u> -	<u>4</u> -

D2 بەرەو پاش بژمیرە و ئەنجامی لیدەر کردن بدۆزەرەوه

14 (4	20 (3	49 (2	37 (1
<u>5</u> -	<u>6</u> -	<u>4</u> -	<u>2</u> -

D3 لونا 40 پارچە پسکیتی لایە، 20 پارچەى لى دا بە سوما، ئايا چەند پارچەى لاماوه؟

40

20-

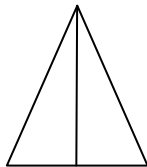
پارچە پسکیت ماوه.

D4 سامان 25 شیرینی کری، 4 دانەى لى خوارد، ئايا چەند پارچە شیرینی لا ماوه؟

## E کەرت و کات

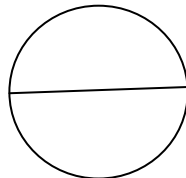
E1 یەك بەش رەنگ بکە و پاشان کەرتى گونجاو دەور بدە

(3



$$\frac{1}{4} \quad \frac{1}{2}$$

(2




$$\frac{1}{4} \quad \frac{1}{2}$$

(1

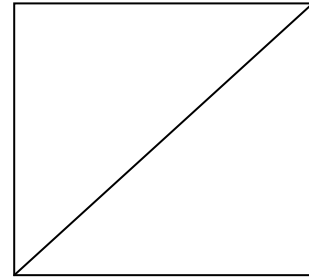


$$\frac{1}{4} \quad \frac{1}{2}$$

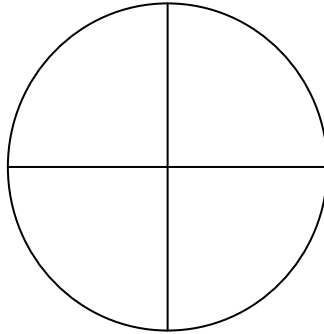


## E2 رهنگ کردن

(1)  $\frac{1}{2}$  ی رهنگ بکه



(2)  $\frac{1}{4}$  ی رهنگ بکه



## E3 وینه کیشان

وینه یه ک بکیشه بو ئه وهی که رته که بنوینی

(2)  $\frac{1}{4}$

(1)  $\frac{1}{2}$

## E4 کات


کات دیاری بکه و پاشان دهوری بده

(2)




1 7 6 12

(1)

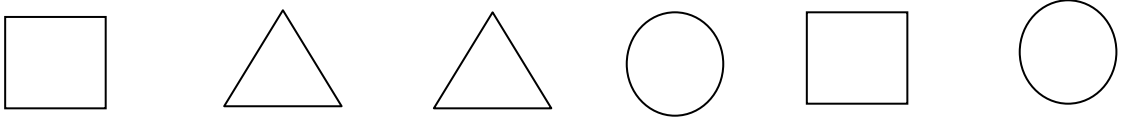


12 3 2 1

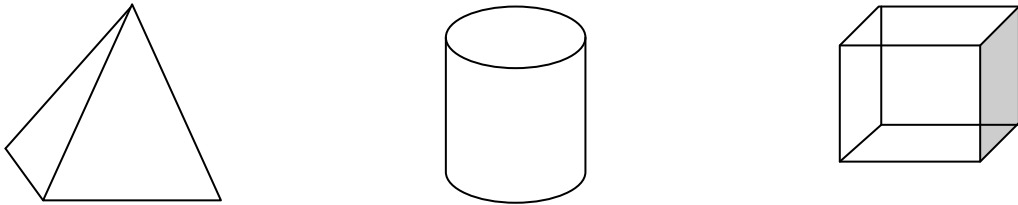


## F شیوه و تهنه‌اندازه‌ییه کان

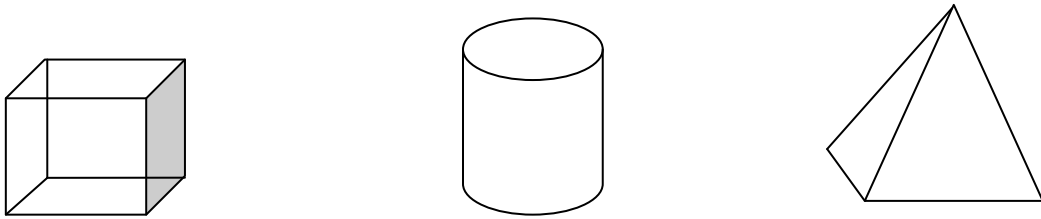
F1 چوار گوشه کان به رهنگی سهوز، سیگوشه کان به رهنگی زهرد و بازنه کان به رهنگی سوور رهنگریژ بکه.





F2 نه و تهنه‌ی گلور ده‌یته‌وه و له‌سه‌ریه‌ک داده‌نریت، رهنگریژ بکه



F3 نه و تهنه رهنگریژ بکه که 6 رووی هه‌یه



F4 کام شیوه‌وه 4 سه‌ر و 4 لای هه‌یه ده‌ور بده





تهنجامی هه‌سه‌نگاندنی رووینوی M1

وه‌ری دووهه‌م

ژ	بنه‌ماکانی هه‌سه‌نگاندن	بر‌گه‌کانی هه‌سه‌نگاندن	نمره‌کان	کۆی نمره‌کان	شیکردنه‌وه‌ی بر‌گه‌کانی هه‌سه‌نگاندن
1	A / ناسین، خویندنه‌وه و نووسینی ژماره‌کان	A1 / 6 نمره A2 / 15 نمره A3 / 6 نمره A4 / 7 نمره	A1 / A2 / A3 / A4 /		34-33 نایاب 24-21 ناوه‌ند 30-32 زۆر باش 18-20 په‌سه‌ند 25-29 باش 17-0 لاواز
2	B / شیوازه‌کان	B1 / 9 نمره B2 / 8 نمره B3 / 6 نمره B4 / 4 نمره	B1 / B2 / B3 / B4 /		27-26 نایاب 20-18 ناوه‌ند 25-24 زۆر باش 17-14 په‌سه‌ند 23-21 باش 13-0 لاواز
3	C / کرداری کۆکردنه‌وه	C1 / 10 نمره C2 / 4 نمره C3 / 3 نمره C4 / 6 نمره	C1 / C2 / C3 / C4 /		23-22 نایاب 17-15 ناوه‌ند 21-20 زۆر باش 14-12 په‌سه‌ند 19-18 باش 11-0 لاواز
4	D / کرداری لیدهر کردن	D1 / 8 نمره D2 / 8 نمره D3 / 4 نمره D4 / 6 نمره	D1 / D2 / D3 / D4 /		26-25 نایاب 20-18 ناوه‌ند 24-23 زۆر باش 17-14 په‌سه‌ند 22-21 باش 13-0 لاواز
5	E / که‌رته‌کان	E1 / 6 نمره E2 / 4 نمره E3 / 4 نمره E4 / 4 نمره	E1 / E2 / E3 / E4 /		18 نایاب 13-12 ناوه‌ند 17 زۆر باش 11-10 په‌سه‌ند 16-14 باش 9-0 لاواز
6	F / شیوه و تهنه ئەندازه‌بیه‌کان	F1 / 4 نمره F2 / 4 نمره F3 / 4 نمره F4 / 4 نمره	F1 / F2 / F3 / F4 /		16 نایاب 12-11 ناوه‌ند 15 زۆر باش 10-9 په‌سه‌ند 14-13 باش 8-0 لاواز
			کۆی نمره‌کان		نمره / 144

