

تاقی کردنه‌وهی رووپیوی

بیر کاری

M1

وه‌رزی یه کهم

..... ناو:

..... پۆل و هۆبه:

..... فیترگه / قوتابخانه:

..... ریکه‌وت: 20 . . .




دانانی

شیرزاد مسته‌فا همه‌د

پسپۆر و سه‌رپه‌رشتیاری په‌روه‌رده‌یی

کۆمه‌ک 2009



چۆنیه تی به کارهینانی M1

تاقیکردنهوهی رووینوی بیرکاری M1 ههنگاوینکی سهرهکییه بۆ دیاری کردنی ئاستی زانیاری مندال و پیاده کردنی پلانی کار. ئەم ههلسهنگاندنهی له بهردهستدایه له کۆتایی وهرزی یه کهم بۆ پۆلی یه کهمی به کار دههینیت. له دوا لاپه ره ی ئەم تاقیکردنهوهیه دا، نمره کان به پیی برگه دیاری کراون، ئەو کات بۆ مامۆستا لایه نه لاوازه کانی فیرخواز دهرده کهویت که ده بیته کاری له سهر بکریته.


ئهنجامی ئەم تاقی کردنهوهیه ته نه لای مامۆستا ده بیته و ئاشکرا ناکریته و نایته که سی دیکه جگه له مامۆستا بیزانیت، چونکه مه به ست له م تاقی کردنهوهیه دیاری کردنی ئاستی فیرخوازه هاوکات دیاری کردنی گه یشتن به ئامانجه که حکومه تی کوردستان داواکاره له مامۆستا که ئەو زانیاریانه فیتری مندال بکات.

ئهنجامی ئەم تاقیکردنهوهیه ده کریته له دیداری گه شه دا پیشانی دایکوباوکان بدریته، بۆ ئەوهی ئەوانیش بتوانن هاوکار بن له گه شه پیدان و کارامه یی منداله کانیان.

ئەم نمونه یه ش ئەزموونیه و سهره تایه که بۆ ئاسانکاری کاری مامۆستا و گه یشتن به ئامانجه دیاری کراوه کانی وهزاره تی فیترکاری وه لات. له داها توودا به پیی سهرنجی مامۆستایان ده کریته گۆرانکاری تیدا بکریته.


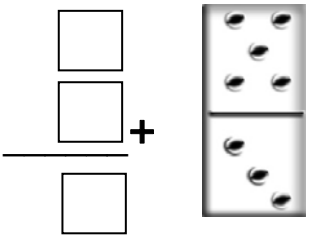

مامۆستای ئازیز ههر سهرنجیکت هه بوو دهرباره ی ئەم تاقیکردنهوهیه، تکایه سهریهرشتیاری په یوه ندیدار ئاگادار بکه ره وه.

تیبینی / 1- وهرزی یه کهم له 09.15 ده ست پیده کات و له 12.25 کۆتایی دیت.




B كۆردنەۋە كىردارى

B1 / سەيرى وىنە كە بىكە و ژمارە كان بنووسە، پاشان سەرجهم بدۆزەرەۋە

<p>(3)</p>  <p>_____ = _____ + _____</p>	<p>(2)</p>  <p>_____ + _____ = _____</p>	<p>(1)</p>  <p>_____ = _____ + _____</p>
---	---	---

B2 / كۆبكەرەۋە

<p>(3)</p>  <p>_____ = 4 + 4</p>	<p>(2)</p>  <p>5 + _____ = _____</p>	<p>(1)</p>  <p>_____ = 2 + 4</p>
---	---	---

B3 / رىستەى كۆكردنەۋە بنووسە، پەپىك (●) بە كاربەينە لە جىياتى چۆلە كە.

(1) 4 چۆلە كە لەسەر دارىكن، 2 چۆلە كەى دىكە ھاتن بۆ لايان، بوون بە چەند چۆلە كە؟

_____ = _____ + _____ چۆلە كە.

(2) 5 بۆق مەلە دەكەن، 5 بۆقى دىكە ھاتن بۆ لايان، ئايا بوون بە چەند بۆق؟

_____ = _____ + _____ بۆق.

(3) 7 مندال لە باخچەيە كدا يارى دەكەن، 2 مندالى دىكە ھاتن بۆ لايان، ئايا بوون بە چەند مندال؟

_____ = _____ + _____ مندال.



C کرداری لیدر کردن


C1 سهیری وینه کان بکه و ژماره کان بنووسه، پاشان جیاوازی بدؤزه ره وه،



$$\underline{\quad} = \underline{\quad} - \underline{\quad}$$

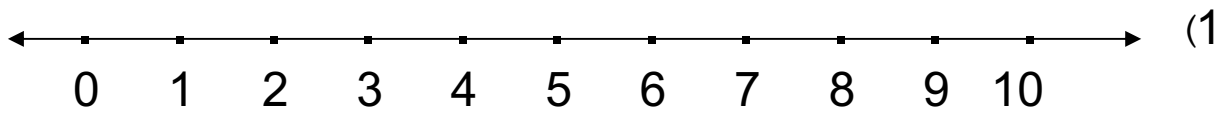


$$\underline{\quad} = \underline{\quad} - \underline{\quad}$$

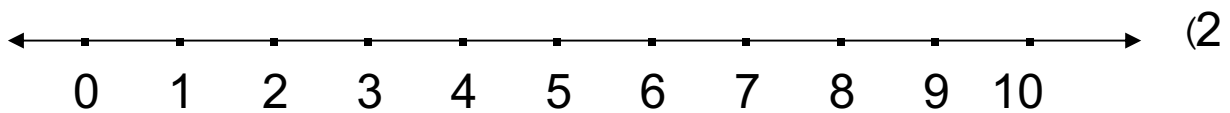


$$\underline{\quad} = \underline{\quad} - \underline{\quad}$$

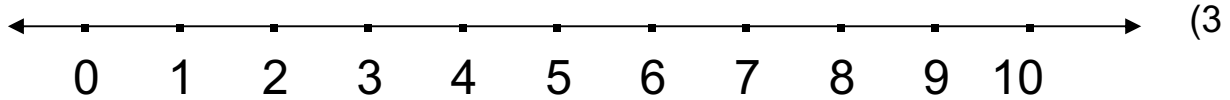
C2 هیلی ژماره کان به کاربهنه و بهره و پاش بژمییره و لیدر کردن نه انجام بده




$$\underline{\quad} = 1 - 10$$



$$\underline{\quad} = 2 - 2$$



$$\underline{\quad} = 4 - 7$$



C3 پهیرهوی ریسا بکه و خشته که تهواو بکه

6 دهرده کهم	
	7
	8
	9

(3)

3 دهرده کهم	
	5
	6
	7

(2)

1 دهرده کهم	
	7
	5
	3

(1)

C4 جیاوازی بنووسه

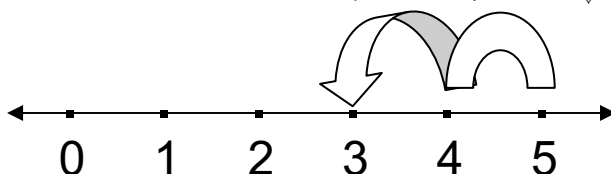
9 (4	6 (3	8 (2	7 (1
<u>6</u> -	<u>6</u> -	<u>3</u> -	<u>0</u> -

D ههلبژاردنی وهلامی راست

D1 وهلامی گونجاو ههلبژیږه و پاشان دهوری بده

$$[2, 5, 6, 7] = 7-9$$

D2 هیلی ژماره کان کام رستهی کرداری دهنوینیت؟



$3+2$

$2+3$

$2-5$

$3-5$

D4 له قاپیکدا 3 مؤز ههیه، 2 مؤزی

دیکه مان بۆ زیاد کرد، کام له م رستانه ی

خواره وه کردار دهنوینیت؟

$0 = 3-3$

$1 = 2-3$

$4 = 2+2$

$5 = 2+3$

D3 کام ژماره خشته که تهواو دهکات؟

4 زیاد ده کهم	
6	2
7	3
	4

تهنجامی هه‌سه‌نگاندنی رووینوی M1

وه‌رزی یه‌که‌م

ژ	بنه‌ماکانی هه‌سه‌نگاندن	بر‌گه‌کانی هه‌سه‌نگاندن	نمره‌کان	کۆی نمره‌کان	شیکردنه‌وه‌ی بر‌گه‌کانی هه‌سه‌نگاندن
1	A / خویندنه‌وه و ناسینی ژماره‌کان	A1 / 6 نمره	/A1		19-20 نایاب
		A2 / 8 نمره	/A2		17-18 زۆر باش
		A3 / 6 نمره	/A3		15-16 باش
2	B / کرداری کۆکردنه‌وه	B1 / 6 نمره	/B1		19-21 نایاب
		B2 / 6 نمره	/B2		17-18 زۆر باش
		B3 / 9 نمره	/B3		15-16 باش
3	C / کرداری لیدهر کردن	C1 / 6 نمره	/C1		28-29 نایاب
		C2 / 6 نمره	/C2		24-27 زۆر باش
		C3 / 9 نمره	/C3		21-23 باش
		C4 / 8 نمره	/C4		
4	D / هه‌لبژاردنی گونجاو	D1 / 4 نمره	/D1		16 نایاب
		D2 / 4 نمره	/D2		20-15 زۆر باش
		D3 / 4 نمره	/D3		13-14 باش
		D4 / 4 نمره	/D4		
				نمره / 86	
کۆی نمره‌کان					

